

Rallye mathématique sans frontière Occitanie-Pyrénées



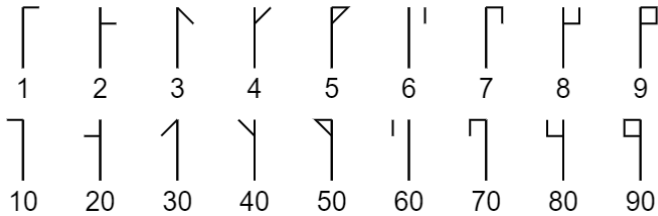
Cycle 2 : première manche


du mardi 23 novembre 2021




1) Quel nombre ? 2 *

Dans le système cistercien, on utilise les signes suivants pour écrire les nombres :

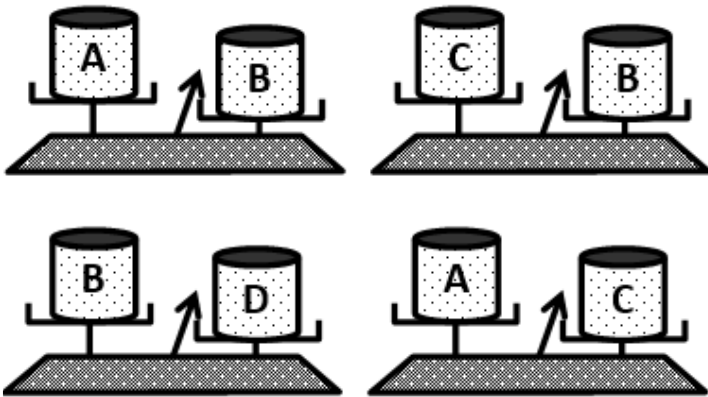


Par exemple 25 s'écrit  en numération cistercienne.

Quel est le nombre écrit  en numération cistercienne ?

2) Du plus léger au plus lourd 4 *


Range les boîtes A, B, C, D de la plus légère à la plus lourde



3) Le jardin public..... 6 *

Le loueur de bateau avait un bateau sur chacune de ses étagères en début de journée. Tous les bateaux à l'eau sont visibles sur l'image. Combien de bateaux loués ne sont pas encore à l'eau ?

Ermel CP



4) Le prix des trois 8 *

À droite de chaque ligne est indiqué le coût total du lot des objets de la ligne.

				→ 11€
				→ 7 €
				→ 15 €
				→ ?

Combien coûte le dernier lot de trois objets ?

5) Combien de pieds ? 10 *



<https://howmanyjeu.fr/>